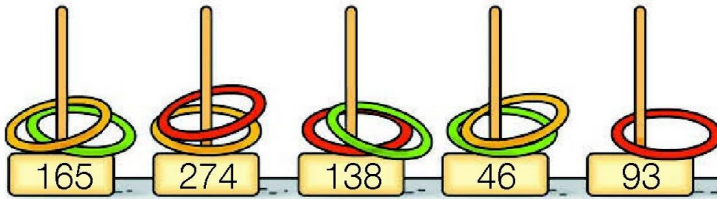



- 4 ¿Cuántos puntos lleva cada uno?
Observa y calcula.




Marco tira las .




Lleva puntos.

Ester tira las .



Lleva puntos.

Rubén tira las .



Lleva puntos.


- 5 Lee y resuelve.

Han ido al estadio 247 seguidores del equipo Leones y 295 del equipo Delfines. ¿Cuántas personas han ido en total al estadio?

DATOS

y

OPERACIÓN



SOLUCIÓN

