


Completa el trazo y di que forma geométrica es cada una.



círculo



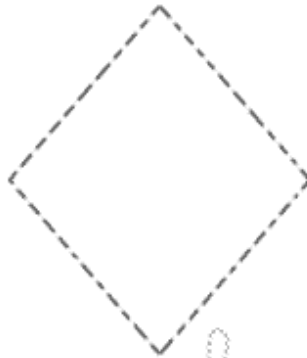
cuadrado



triángulo





rectángulo



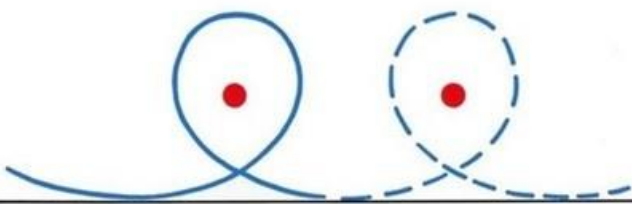
rombo



elipse





















NOMBRE:



Nombre:



Fecha:

Nombre:


Fecha:

H	H	H	H	H
H	H	H	H	H
HA	HE	HI	HO	HU
H	H	H	H	H



Nombre: .....


✓ Lectura e identificación de palabras. Leer y relacionar las palabras con la imagen correspondiente.



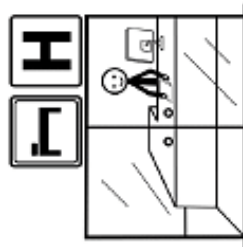
heno



hiena



almohada




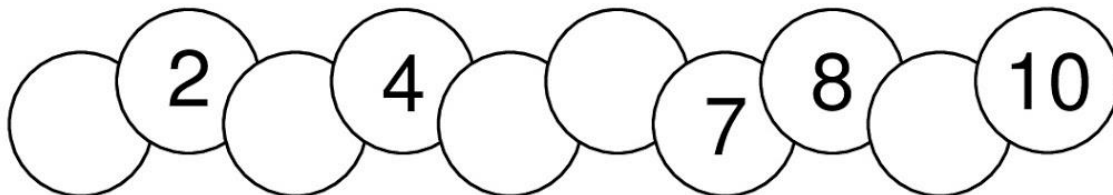
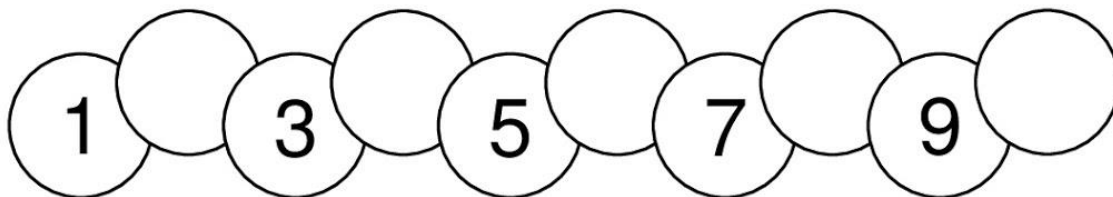
humo



hotel

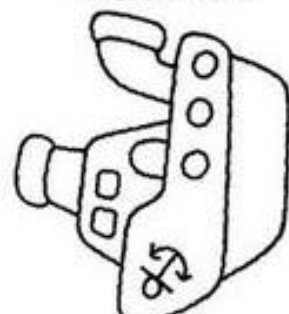
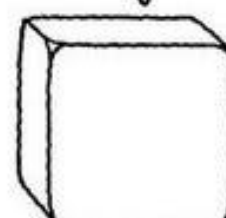

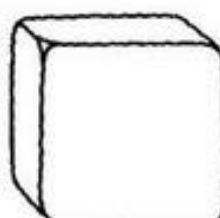

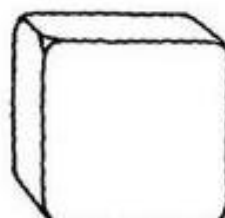
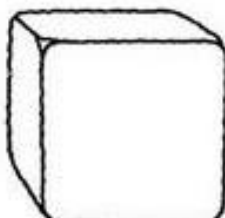
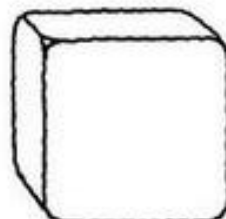
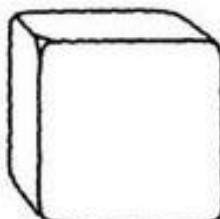

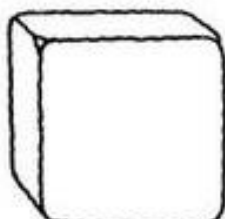
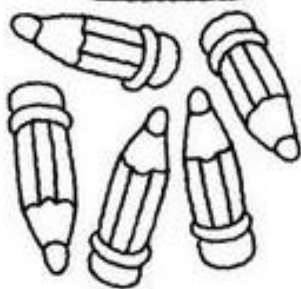
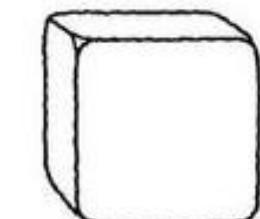
# ¿ QUÉ NÚMEROS FALTAN ?

Escribe los números que faltan en los espacios vacíos.



## ¡A CONTAR!

- DIBUJA EN CADA DADO TANTOS PUNTOS COMO ELEMENTOS TIENE A SU LADO.
- DEBAJO DE CADA DADO ESCRIBE EL NÚMERO CORRESPONDIENTE.
- COLOREA DE ROJO EL DADO CON MÁS PUNTOS Y DE AZUL EL QUE TIENE MENOS.



# OPERACIONES "Sumas"

$3 + 2$



$1 + 4$

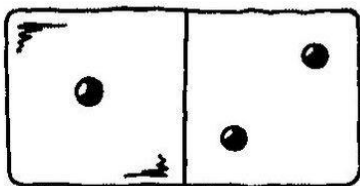


$5 + 0$



**Actividad:** Mirar las sumas. Colorear de diferente color los elementos que indica cada sumando. Escribir el resultado.

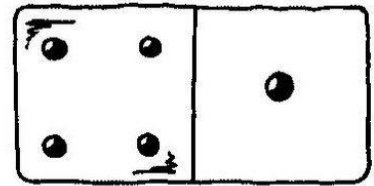
# OPERACIONES NOCIÓN DE SUMA "sumas sencillas"




$1 + 2 = \underline{\quad}$




$2 + \underline{\quad} = \underline{\quad}$



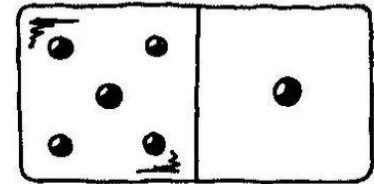
$\underline{\quad} + 1 = \underline{\quad}$



$\underline{\quad} + \underline{\quad} = \underline{\quad}$



$\underline{\quad} + \underline{\quad} = \underline{\quad}$



$\underline{\quad} + \underline{\quad} = \underline{\quad}$

**Experiencia de aprendizaje:** Cuenta los puntos del dominó y escribe el cardinal. Resuelve las sumas y escribe el resultado.

## Ayer/hoy/mañana (ayuda con adulto)

Observa: El hámster hace que ruede su ruleta. Es un hámster muy lento y da un paso cada día que pasa.

Hemos hecho fotos de las dos ruletas en varios días de la semana. Une con flechas los nombres de los días de la semana que faltan y cuándo sería ayer, hoy o mañana.

LUNES

MARTES

MIÉRCOLES

JUEVES

VIERNES

SÁBADO

DOMINGO



ayer

hoy

mañana

Con ayuda de un adulto. El adulto deletreará las sílabas o letras de los alimentos paso a paso. Una vez escritos leer todo y colorear solo los frutos secos.

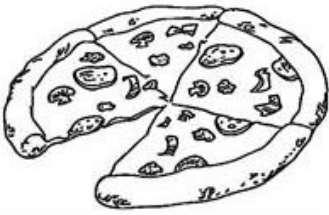

Nombre: \_\_\_\_\_

Fecha: \_\_\_\_\_

CALIGRAFÍA  
ESCRITURA ESPONTÁNEA

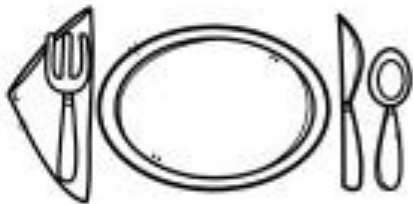


Escribe los nombres de los diferentes alimentos y colorea los dibujos

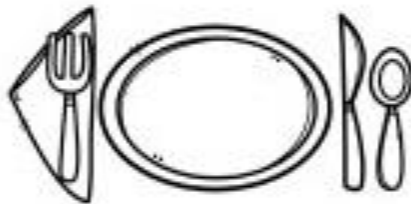


Dibuja y colorea un menú saludable

1er plato



2º plato



Postre

